




MATEMATİK 4 (Ünite 2)

Sayılar



Aşağıdaki sayıları yüzlük, onluk ve birlik ayırınız. Okunuşlarını noktalı yerlere yazınız.



yüzlük
486

onluk
=.....

birlik



yüzlük
953

onluk
=.....


birlik



Modellenen sayıları ve bu sayıların okunuşlarını yazınız.



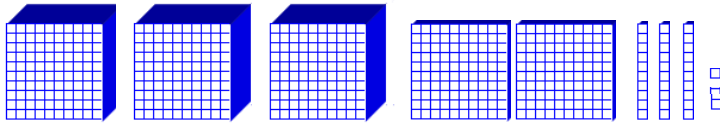
1-)



Sayı :

Okunuşu :

2-)



Sayı :

Okunuşu :



Aşağıdaki tabloda boşlukları doldurunuz.



Bölük adları	Binler Bölüğü			Birler Bölüğü		
	Yüz binler Binlemeği	?	?	Yüzler Binlemeği	?	?
Basamak adları						
Sayı	780.534					
Basamak değerleri	?	80.000	0	500	?	?

